


کد کنترل

F

W35

آزمون ورودی دوره‌های کارشناسی ارشد ناپیوسته داخل - سال ۱۴۰۱

صبح پنجشنبه

1F-1/-2/29



«اگر دانشگاه اصلاح شود مملکت اصلاح می شود.»

اعام خميني

جمهوری اسلامی ایران
وزارت علوم، تحقیقات و فناوری
سازمان سنجش آموزش کشور

ریاضی (کد ۸۰۱۲)

زمان پاسخ گویی: ۲۵۵ دقیقه

تعداد سوال: ۱۵۰

جدول مواد امتحانی، تعداد و شماره سؤالات

ردیف	مواد امتحانی	تعداد سؤال	از شماره	تا شماره
۱	زبان عمومی و تخصصی (انگلیسی)	۳۰	۱	۲۰
۲	دروس پایه (ریاضی عمومی (۱ و ۲)، معادلات دیفرانسیل، مباحث علوم ریاضی، مباحث ماتریس‌ها و جبر خطی، مباحث آنالیز ریاضی، مباحث آنالیز عددی و مباحث احتمال)	۴۰	۳۱	۷۰
۳	آنالیز ریاضی	۲۰	۷۱	۹۰
۴	مباحث جبر و مباحث ترکیبیات	۲۰	۹۱	۱۱۰
۵	جبر خطی عددی، بهینه‌سازی خطی و نظریه مقدماتی معادلات دیفرانسیل	۲۰	۱۱۱	۱۳۰
۶	احتمال (۱ و ۲) و فرایندهای تصادفی ۱	۲۰	۱۳۱	۱۵۰

این آزمون نمره منفی دارد.

استفاده از ماشین حساب مجاز نیست.

حق چاپ، تکثیر و انتشار سؤال‌ها به هر روش (الکترونیکی و...) پس از برگزاری آزمون، برای همه اشخاص حقیقی و حقوقی تنها با مجوز این سازمان مجاز می‌باشد و با متخلفان بر این مقررات رفتار می‌شود.

* متقاضی گرامی، وارد نکردن مشخصات و امضا در کادر زیر، به منزله غیبت و حضور نداشتن در جلسه آزمون است.

اینجانب با شماره داوطلبی با آگاهی کامل، یکسان بودن شماره صندلی خود را با شماره داوطلبی مندرج در بالای کارت ورود به جلسه، بالای پاسخنامه و دفترچه سؤال‌ها، نوع و کد کنترل درج شده بر روی دفترچه سؤال‌ها و پایین پاسخنامه‌ام را تأیید می‌نمایم.

امضا:

زبان عمومی و تخصصی (انگلیسی):

PART A: Vocabulary

Directions: Choose the word or the phrase (1), (2), (3), or (4) that best completes the blank. Then mark the correct choice on your answer sheet.

- 1- The rising death toll is ----- largely to the growing number of elderly people, who are especially vulnerable to the flu.
1) attributed 2) converted 3) debilitated 4) transferred
- 2- The couple were finally ----- by the landlord after not paying their rent for six months.
1) extended 2) elicited 3) evicted 4) evacuated
- 3- We have a ----- clientele in our language program, with students from Asia, Europe and South America.
1) complex 2) diverse 3) symmetrical 4) haphazard
- 4- But the possibility of these adversaries acting like friends, despite their long-standing ----- and mutual dislike, is on the horizon.
1) rivalry 2) advocacy 3) inclination 4) justification
- 5- Debating that aliens exist cannot be deemed an ----- truth as we have yet to see proof of their existence.
1) unintelligible 2) insensitive 3) unforeseeable 4) incontrovertible
- 6- The girls wanted to set the table, but they were more of a ----- than a help.
1) compliment 2) hindrance 3) thrill 4) pretension
- 7- The government is to consult the attorney general on whether the enacting of such a law would be in ----- of the constitution.
1) provenance 2) rationalization 3) breach 4) caprice
- 8- Someone once joked that man blames most accidents on -----, but feels a more personal responsibility when he makes a hole-in-one on the golf course.
1) legality 2) verdict 3) charge 4) fate
- 9- The trial collapsed when it became clear that the main witness for the prosecution was not -----.
1) credible 2) singular 3) subjective 4) conjectural
- 10- The rising number of minority inmates in prison only goes to ----- the stereotype that members of minority groups are bad people.
1) overlook 2) downplay 3) belie 4) perpetuate

PART B: Cloze Passage

Directions: Read the following passage and decide which choice (1), (2), (3), or (4) best fits each space. Then mark the correct choice on your answer sheet.

Fuel cell electric vehicles emit only water vapor and warm air, (11) ----- no tailpipe emissions. Similar to electricity, hydrogen is an energy carrier that can be produced from various feedstocks. These feedstocks and production methods should be considered when (12) -----.

Argonne National Laboratory's (ANL) report, *Fuel Choices for Fuel Cell Vehicles: Well-to-Wheels Energy and Emission Impacts*, analyzed greenhouse gas (GHG) (13) ----- 10 of the most common hydrogen production and distribution pathways. ANL found that gaseous hydrogen produces (14) ----- GHGs than liquid hydrogen in most cases. ANL also investigated hydrogen's effects on petroleum use and found that using hydrogen as a fuel (15) ----- petroleum use by nearly %100 regardless of fuel production pathway.

- | | | | | |
|-----|-----------------------------------|----------------------------------|---------------------------------------|---------------------------------|
| 11- | 1) produce | 2) that produces | 3) to produce | 4) producing |
| 12- | 1) to evaluate hydrogen emissions | 2) evaluating hydrogen emissions | 3) for hydrogen emissions to evaluate | 4) hydrogen emissions evaluated |
| 13- | 1) emissions for | 2) it is emitted as | 3) is emitted for | 4) to be emitted |
| 14- | 1) less of | 2) as little | 3) fewer | 4) fewer of |
| 15- | 1) reduction | 2) reduced | 3) that reduces | 4) to reduce |

PART C: Reading Comprehension

Directions: Read the following three passages and answer the questions by choosing the best choice (1), (2), (3), or (4). Then mark the correct choice on your answer sheet.

PASSAGE I:

The interpolation problem for a function of a continuous argument, given discrete data, is closely related to the problem of constructing variational-difference schemes and continuous representations of solutions of difference problems. For as a rule, in order to obtain the difference equations, one has to discretize the operator and the solution of the problem by taking suitable projections. At the same time the solution of the differential problem usually represents an approximate solution of the original problem on a discrete set of points. Let us assume that the difference problem has been solved and that we know the approximate solution of the problem. The procedure now involves an interpolation from the results obtained onto the whole region on which the solution of the original problem is sought. An interpretation of this kind requires that certain conditions are taken into account: namely, if the solution of the difference equations has been obtained with a certain accuracy, then the accuracy of the interpolation must be at least as high. If we possess additional information regarding the error of the approximate solution, then the interpolation may be implemented, not from the exact data, but from those involving possible error at the net points. *A priori* information about the smoothness of solutions may then also allow one to improve the

accuracy of the approximate solution in some cases, using one or another difference method. Apart from this, the interpolation problem also has its own merits.

As a rule, the interpolation algorithms for the exact data, specified on a discrete set of points, are based on Lagrange interpolation polynomials. Also, the interpolated function $\phi(x)$ is *a priori* assumed to be suitably differentiable.

Another problem closely related to interpolation arises when the function values of ϕ at the net points x_k are known only up to a certain error, the maximum magnitude of which is *a priori* known at each of the points. In this case, we want to construct a curve which would be in some sense the best approximation of the function, the latter being specified at the net points up to random errors. Problems of this kind are usually solved by the least-squares method.

The theory of interpolation has been enriched recently by what is known as spline interpretation methods. Usually a spline is a piecewise-polynomial function defined in the region D , i.e., a function for which there exists a decomposition of D into subregions in each of which the function is a polynomial of some degree m . Also the function, as a rule, is continuous in D , together with its derivatives to order $m - 1$, and the m th derivatives are square integrable. In practice, the most often used polynomials are cubics.

16- Choose and mark the correct choice.

- 1) Certain piecewise cubic polynomials serve as splines.
- 2) Splines are integrable functions only if they are pieewise squared functions.
- 3) Spliens may not be integrable in their defined subregions.
- 4) Least squares approximations are preferred over spline interpolation.

17- When the function values at the data points are known to have errors, ----- may appropriately be employed.

- 1) an interpolatory spline function
- 2) a polynomial least squares approximation
- 3) a least squares approximate model
- 4) a piecewise polynomial interpolation

18- Select the best choice for the meaning of the underlined word "argument" in the first paragraph.

- | | |
|--------------|-------------------------|
| 1) reasoning | 2) statement |
| 3) deduction | 4) independent variable |

19- Least squares models ----- of functions with known approximate values.

- 1) are best developed as polynomials
- 2) are preferred as approximations
- 3) serve as approximations while interpolatory functions serve as exact modes
- 4) and interpolatory functions both serve as approximations

20- Piecewise polynomial -----.

- 1) with certain continuity properties are constructed as splines
- 2) can only serve as splines
- 3) are the only functions being used in interpolation
- 4) are considered to be splines only if the polynomial pieces are cubic

PASSAGE 2:

Geometric-modeling methods are a synthesis of techniques from many fields: analytic and descriptive geometry, topology, set theory, numerical analysis, vector calculus, and matrix methods, to name a few. Originally, only a loose ad hoc assembly, they have coalesced into an independent discipline with a well-defined language and logic.

Where we were once satisfied with two-dimensional representations of physical objects, we now demand and achieve topologically and analytically complete three-dimensional models. Furthermore, these models allow us to derive quickly and automatically any geometric property or attribute that the object is likely to possess. Obviously, appearance is not the sole concern of geometric modeling, so we carefully distinguish between analytical models and rendering. We also require a mathematical setting that allows us to calculate relationships between models—closest approach, intersections, shadowing, and so forth. In many situations, we are interested in representing arbitrary shape information—shapes that do not have special names and whose characteristics are not well defined. The technologies serviced by geometric-modeling schemes continue to stretch those schemes to the limits of their capabilities.

We identify three distinct aspects of geometric modeling: (1) Representation: The physical shape of an object is given and presumed to be fixed; we compute a mathematical approximation once. (2) Design: We must create a new shape to satisfy some operational or aesthetic objectives. We manipulate the variables defining the shape until we meet the objectives. (3) Rendering: We usually need an image of the model to visually interpret it. These three aspects are, of course, closely related; for example, when we create the geometric model of a new product, at first, the model represents a physically nonexistent object. The model must be suitable for analysis and evaluation. After selecting a specific design, we can use its geometric model to guide the manufacture of the object. When production is complete, the model finally represents the physical shape of an existing object. At any point in this process, the geometric model provides information for rendering visual images of the object, including engineering drawings and computer graphics displays.

Computer graphics, computer-aided design (CAD), and computer-aided manufacturing (CAM) have been the driving forces behind the rapid development of geometric-modeling schemes. And, naturally, it is in these very areas that we can apply geometric modeling most effectively. Robotics, computer vision, and artificial intelligence are also making increasing demands on geometric-modeling capabilities. Let us review the traditional applications.

Computer graphics systems now routinely produce realistic two-dimensional color-shaded renderings of three-dimensional objects. Solid modeling, polygonal, and sculptured-surface techniques have made this possible: They now produce the appearance of texture and translucence and the effects of multiple light sources. Art, animation, and reality simulation are contributing their own impetus to the state of the art, as in several popular feature films and, of course, in generating scenes for aircraft flight simulators.

- 21- Geometric modeling -----.
- 1) methods have shown to be impractical
 - 2) methods are not dependent on mathematical logic
 - 3) methods employ technically loose and ad hoc mathematical approaches
 - 4) is engaged with well-developed mathematical methods
- 22- Select the wrong statement about geometric medaling.
- 1) Appearance is the only concern.
 - 2) computer graphics applications have been made.
 - 3) Production of two dimensional images is made possible.
 - 4) Artificial intelligence has benefitted from it.
- 23- Select the best choice for the meaning of the underlined word "distinguish" in the second paragraph.
- 1) separate
 - 2) glorify
 - 3) derive
 - 4) articulate
- 24- A geometric model -----.
- 1) needs to be visually verified
 - 2) is not useful in computer vision
 - 3) is needed to be analyzed and evaluated
 - 4) is finding less applications in CAD and CAM
- 25- Robotics and computer vision -----.
- 1) are examples of CAD
 - 2) make use of geometric models
 - 3) are examples of CAM
 - 4) are instances of reality simulation

PASSAGE 3:

If one has several vectors in C^n or several matrices in M_n , what might it mean to say that some are "small" or that others are "large"? Under what circumstances might we say that two vectors are "close together" or "far apart"?

Questions of "size" and "proximity" in a two- or three-dimensional real vector space usually refer to Euclidean distance. The Euclidean length of a vector $z \in R^n$ is $(z^T z)^{1/2} = (\sum z_i^2)^{1/2}$, and z is said to be "small" (with respect to this measure) if this nonnegative real number is small. The vectors x and y , furthermore, are "close" if the Euclidean length of the difference $z = x - y$ is a small number.

What may be said about the "size" of matrices, which may be thought of as vectors in a higher-dimensional space? What about vectors in infinite-dimensional spaces? What about complex vectors? Are there useful ways to measure the "size" of real vectors other than by Euclidean length?

One way to answer these questions is to study *norms*, or measures of size, of matrices and vectors. Norms may be thought of as generalizations of Euclidean length, but the study of norms is more than an exercise in mathematical generalization. It is necessary for a proper formulation of notions such as power series of matrices, and it is essential in the analysis and assessment of algorithms for numerical computations. Furthermore, different acceptable norms may be more or less convenient in various situations, so that it is appropriate to study properties common to all norms, rather than to restrict attention to any single norm.

- 26- Norms are used to show -----.
- 1) only closeness of vectors
 - 2) only remoteness of matrices
 - 3) the distance between vectors
 - 4) similarity of vectors and matrices
- 27- The size of a vector can be determined -----.
- 1) by any vector norm
 - 2) merely by its Euclidean length
 - 3) by any appropriate norm only if the size turns to be large
 - 4) by its Euclidean distance only if the size turns to be small
- 28- Select the best choice for the meaning of the underlined word "assessment" in the last paragraph.
- 1) evaluation
 - 2) complexity
 - 3) competitiveness
 - 4) convergence
- 29- The use of norms -----.
- 1) is not appropriate for analysis of algorithms
 - 2) complicates the assessment of algorithms
 - 3) is merely appropriate for measuring the size of matrices and vectors
 - 4) extends beyond an exercise in a mathematical generalization
- 30- Choose and mark the correct choice.
- 1) Common properties of norms are insignificant.
 - 2) Acceptable norms may all turn to be useful in various applications.
 - 3) Attention to any single norm is inappropriate.
 - 4) Acceptable norms may have inappropriate properties.

دروس پایه (ریاضی عمومی (۱ و ۲)، معادلات دیفرانسیل، مبانی علوم ریاضی، مبانی ماتریس ها و جبر خطی، مبانی آنالیز ریاضی، مبانی آنالیز عددی و مبانی احتمال):

۳۱- دامنه تابع $f(x) = \log \frac{2-x}{x - \sqrt{x^2 - 2x + 2}}$ کدام است؟

- (۱) $(0, 1)$
- (۲) $(1, 2)$
- (۳) $(0, 2)$
- (۴) $(-\infty, 2)$

۳۲- مساحت رویه دوار حاصل از دوران منحنی $y = 2 \sin^3 t$ و $x = 2 \cos^3 t$ حول محور x ها، کدام است؟

- (۱) 6π
- (۲) $\frac{24\pi}{5}$
- (۳) 12π
- (۴) $\frac{48\pi}{5}$

۳۳- مساحت کل ناحیه بسته درون منحنی قطبی $r = \cos 2\theta$ ، کدام است؟

(۱) $\frac{\pi}{8}$

(۲) $\frac{\pi}{4}$

(۳) $\frac{\pi}{2}$

(۴) π

۳۴- حجم جسم حاصل از دوران ناحیه محصور به محور y ها و یک طاق از منحنی $x = 1 - \cos t$ و $y = t - \sin t$ ، حول محور y ها، کدام است؟

(۱) $4\pi^2$

(۲) $5\pi^2$

(۳) $6\pi^2$

(۴) $7\pi^2$

۳۵- در کدام بازه سری $\sum_{n=2}^{\infty} \frac{(2x-1)^n}{3^n \ln n}$ همگرایی مطلق است؟

(۱) $(-1, 2)$

(۲) $[-1, 2)$

(۳) $(-1, 2]$

(۴) $[-1, 2]$

۳۶- اگر $\lim_{x \rightarrow 0} \frac{(e^{2x} - 1 - 2x) \ln(1 - x^2)}{(1 - \cos 3x)^n} = a$ باشد، مقدار $\frac{a}{n}$ کدام است؟

(۱) $\frac{-16\sqrt{2}}{5 \times 3^5}$

(۲) $\frac{8\sqrt{2}}{5 \times 3^5}$

(۳) $\frac{16\sqrt{2}}{3^5}$

(۴) $\frac{-8\sqrt{2}}{5 \times 3^5}$

۳۷- فرض کنید $f(x, y) = \begin{cases} \frac{2xy(x^2 - y^2)}{x^2 + y^2} & (x, y) \neq (0, 0) \\ 0 & (x, y) = (0, 0) \end{cases}$ مقدار $f_{yx}(0, 0)$ کدام است؟

(۱) صفر

(۲) ۲

(۳) -۲

(۴) وجود ندارد.

۳۸- مقدار مشتق سویی مرتبه دوم تابع $f(x, y) = x^2 e^{(xy)}$ در نقطه $(1, 0)$ در سویی که با جهت مثبت محور x ها زاویه ۴۵ درجه می سازد، کدام است؟

(۱) ۵

(۲) $\frac{1}{2}$

(۳) ۴

(۴) $\frac{9}{2}$

۳۹- فرض کنید $A = \iint_{\mathbb{R}^2} \frac{dx dy}{(x^2 + y^2 + 1)^k}$ به ازای کوچکترین مقدار صحیح ممکن برای k همگرا باشد، مقدار A کدام است؟ (\mathbb{R} مجموعه اعداد حقیقی است.)

(۱) $\frac{\pi}{2}$

(۲) 2π

(۳) π

(۴) $\frac{2\pi}{3}$

۴۰- فرض کنید S سطح واقع بر کره $x^2 + y^2 + (z-2)^2 = 8$ باشد که در بالای صفحه xy قرار گرفته است. اگر میدان

نیروی $\vec{F}(x, y, z) = y^2 \cos(xz)\hat{i} + x^2 e^{(yz)}\hat{j} - e^{-(xyz)}\hat{k}$ از سطح S گذر کند، مقدار $\iint_S \text{Curl } \vec{F} \cdot \hat{n} dS$

کدام است؟ (\hat{n} بردار قائم بکه برونسو بر سطح S است.)

(۱) 8π

(۲) 10π

(۳) 12π

(۴) 16π

۴۱- به ازای کدام مقدار مثبت a شعاع همگرایی پاسخ سری معادله دیفرانسیل $(x^2 + a^2)y'' + 2xy' + 4x^2y = 0$ در

اطراف نقطه $x = -\frac{3}{2}$ برابر $R = \frac{5}{2}$ خواهد بود؟

۱ (۱)

۲ (۲)

۳ (۳)

۴ (۴)

۴۲- جواب عمومی معادله دیفرانسیل $(x-y)^2 y' = 4$ کدام است؟

$$y = \frac{1}{2} \ln \left(\frac{x-y-2}{x-y+2} \right) + c \quad (۱)$$

$$y = \frac{1}{2} \ln \left(\frac{x-y+2}{x-y-2} \right) + c \quad (۲)$$

$$y = \ln \left(\frac{x-y-2}{x-y+2} \right) + c \quad (۳)$$

$$y = \ln \left(\frac{x-y+2}{x-y-2} \right) + c \quad (۴)$$

۴۳- جواب معادله انتگرال $y - 2y - 2 \int_0^x y(t) dt = u_r(x)$ با شرط اولیه $y(0) = 0$ کدام است؟ (u تابع پله است.)

$$\frac{2\sqrt{17}}{17} u_r(t) e^{\frac{2t}{2}+2} \cosh \left(\frac{\sqrt{17}}{2} (t-2) \right) \quad (۱)$$

$$\frac{2\sqrt{17}}{17} u_r(t) e^{\frac{2t}{2}-2} \cosh \left(\frac{\sqrt{17}}{2} (t-2) \right) \quad (۲)$$

$$\frac{2\sqrt{17}}{17} u_r(t) e^{\frac{2t}{2}+2} \sinh \left(\frac{\sqrt{17}}{2} (t-2) \right) \quad (۳)$$

$$\frac{2\sqrt{17}}{17} u_r(t) e^{\frac{2t}{2}-2} \sinh \left(\frac{\sqrt{17}}{2} (t-2) \right) \quad (۴)$$

۴۴- لاپلاس وارون تابع $F(s) = \frac{1}{s^2 \sqrt{s+1}}$ برای $t > \ln 2$ کدام گزینه است؟ (راهنمایی: $\Gamma(x)$ تابع گاما است و

$$\Gamma\left(\frac{1}{2}\right) = \sqrt{\pi}$$

$$\frac{e^{-\frac{t}{2}}}{\sqrt{\pi(t - \ln 2)}} \quad (۱)$$

$$\frac{e^{-\frac{1}{2}(t - \ln 2)}}{\sqrt{2\pi t}} \quad (۲)$$

$$\frac{e^{-\frac{t}{2}}}{\sqrt{2\pi(t - \ln 2)}} \quad (۳)$$

$$\frac{e^{-\frac{1}{2}(t - \ln 2)}}{\sqrt{2(t - \ln 2)}} \quad (۴)$$

۴۵- جوابی از معادله دیفرانسیل $xy'' + y' = 2x \ln x$ که منحنی آن از نقطه $(1, 1)$ عبور کرده و در نقطه $x = 0$ مقدار مشتق تابع محدود است، کدام است؟

$$x^2 \ln x + 1 \quad (۱)$$

$$x^2 \ln \frac{x}{e} + 2 \quad (۲)$$

$$\frac{1}{2} x^2 \ln \frac{x}{e} + \frac{3}{2} \quad (۳)$$

$$\frac{1}{2} x^2 \ln x + 1 \quad (۴)$$

۴۶- برای دنباله $\{a_n\}$ از اعداد حقیقی، کدام یک از گزاره‌های زیر یا هم معادل (هم ارز) هستند؟ (اندیس‌ها مقید به اعداد طبیعی و ε مقید به اعداد حقیقی مثبت است.)

$$(الف) \forall \varepsilon \in \mathbb{N} \forall n (n > N \wedge |a_n - a_N| < \varepsilon)$$

$$(ب) \forall \varepsilon \in \mathbb{N} \forall k \forall n (n > N \Rightarrow |a_{N+k} - a_n| < \varepsilon)$$

$$(ج) \exists N \forall \varepsilon \forall k \forall n (n > N \Rightarrow |a_{n+k} - a_n| < \varepsilon)$$

$$(د) \exists \varepsilon \in \mathbb{N} \forall n \forall m (n, m > N \Rightarrow |a_m - a_n| < \varepsilon)$$

$$(هـ) \exists \varepsilon \in \mathbb{N} \forall m \in \mathbb{N} (m, n > N \wedge |a_m - a_n| < \varepsilon)$$

(۱) (ب) و (د)

(۲) (الف) و (د)

(۳) (ج) و (د)

(۴) (ج) و (هـ)

۴۷- فرض کنید $f: X \rightarrow Y$ تابعی مفروض باشد. رابطه هم ارزی R را در X به صورت زیر تعریف می کنیم: xRx' یعنی $f(x) = f(x')$. مجموعه دسته های هم ارزی در X با کدام مجموعه هم عدد است؟

(۱) Y

(۲) X

(۳) $f(X)$

(۴) $Y \setminus f(X)$ (مکمل $f(X)$ در Y)

۴۸- فرض کنید $A_k = \{x \in \mathbb{R} : -1 \leq [kx] \leq k\}$ و $B = \bigcup_{k=1}^{\infty} A_k$ و $A = \bigcap_{k=1}^{\infty} A_k$. $[.]$ نماد جزء صحیح است و \mathbb{R} مجموعه اعداد حقیقی. کدام گزینه درست است؟

(۱) $A = (0, 1)$ و $B = (-1, 2)$

(۲) $A = (0, 1)$ و $B = [0, 2)$

(۳) $A = [0, 1)$ و $B = (-1, 2)$

(۴) $A = [0, 1]$ و $B = [-1, 2)$

۴۹- اگر $A = \{A_\alpha\}_{\alpha \in I}$ خانواده ای از مجموعه ها باشد، تعریف می کنیم $UA = \bigcup_{\alpha \in I} A_\alpha$. کدام یک از گزاره های زیر درست است؟ (P نماد مجموعه توانی است.)

(الف) به ازای هر A ، $P(UA) = A$

(ب) اگر هر عضو A عضو مجموعه B باشد، آنگاه $UA \subseteq B$

(۱) فقط (الف)

(۲) فقط (ب)

(۳) هر دو

(۴) هیچ کدام

۵۰- تابع انتخاب برای مجموعه X تابعی مانند $F: (P(X) - \{\emptyset\}) \rightarrow X$ است به طوری که برای هر $\emptyset \neq A \subseteq X$ ، $F(A) \in A$. گزاره های زیر را در نظر می گیریم:

(الف) یک تابع انتخاب برای \mathbb{N} (مجموعه اعداد طبیعی) وجود دارد.

(ب) یک تابع انتخاب برای \mathbb{R} (مجموعه اعداد حقیقی) وجود دارد.

اثبات کدام یک از گزاره های فوق الزاماً نیازمند استفاده از اصل انتخاب است؟

(۱) فقط (الف)

(۲) فقط (ب)

(۳) هر دو

(۴) هیچ کدام

۵۱- فرض کنیم W_1 و W_2 زیرفضاهایی از \mathbb{R}^3 هستند که به صورت زیر تعریف می شوند.

$$W_1 = \{(a, b, c) \mid a = b = c\}$$

$$W_2 = \{(a, b, c) \mid a + b + c = 0\}$$

در این صورت $\dim W_1 + \dim W_2$ برابر است با:

(۱) ۱

(۲) ۲

(۳) ۳

(۴) ۴

۵۲- کدام یک از موارد زیر به ازای هر ماتریس $A \in M_2(\mathbb{R})$ برقرار است؟

(۱) $\text{tr}(A^2) \geq 0$

(۲) $A^2 = \text{tr}(A)A - (\det A)I$

(۳) همه درایه‌های روی قطر A^2 بزرگتر یا مساوی صفر هستند.

(۴) همه مقادیر ویژه حقیقی A^2 بزرگتر یا مساوی صفر هستند.

۵۳- در فضای برداری ماتریس‌های 2×3 ، بعد زیرفضای W تولید شده توسط ماتریس‌های

$$A = \begin{bmatrix} 1 & 2 & 3 \\ 4 & 0 & 5 \end{bmatrix}, B = \begin{bmatrix} 2 & 4 & 7 \\ 10 & 1 & 13 \end{bmatrix}, C = \begin{bmatrix} 1 & 2 & 5 \\ 8 & 2 & 11 \end{bmatrix}$$

کدام گزینه است؟

(۱) ۲

(۲) ۳

(۳) ۴

(۴) ۵

۵۴- فرض کنید $P_2[x]$ فضای برداری متشکل از همه چندجمله‌ای‌های از درجه حداکثر ۲ با ضرایب حقیقی باشد.

اگر $T: P_2[x] \rightarrow P_2[x]$ یک تبدیل خطی با ضابطه

$$T(a_0 + a_1x + a_2x^2) = (3a_0) + (6a_0 + 5a_1)x + (4a_0 - 3a_1)x^2$$

باشد، حاصل ضرب مقادیر ویژه T کدام است؟

(۱) -۴۵

(۲) صفر

(۳) ۶۰

(۴) ۷۲

۵۵- فرض کنید $\alpha = (a, b, c) \in \mathbb{R}^3$ بردار ثابت ناصفری باشد و تبدیل خطی $T: \mathbb{R}^3 \rightarrow \mathbb{R}^3$ را به صورت $T(v) = \alpha \times v$ تعریف می‌کنیم (در اینجا $\alpha \times v$ ضرب خارجی بردارهای α و v است). یک مقدار ویژه T و یک بردار ویژه متناظر به ترتیب برابرند با:

(۱) $\frac{1}{2}$ و $v = (4a, -\frac{1}{2}b, \frac{1}{2}c)$

(۲) $\frac{1}{2}$ و $v = \alpha$

(۳) ۰ و $v = (4a, \frac{1}{2}b, -\frac{1}{2}c)$

(۴) ۰ و $v = \frac{1}{2}\alpha$

۵۶- مجموعه $\left\{x: x > 0, \sum_{n=1}^{\infty} \frac{x^n n!}{n^n} < \infty\right\}$ کدام است؟

(۱) $(0, 1]$

(۲) $(0, e)$

(۳) $(0, e]$

(۴) $(0, \infty)$

۵۷- فرض کنید تابع حقیقی مقدار f بر $[0, 1]$ پیوسته و بر $(0, 1)$ مشتق پذیر باشد. به علاوه $f(0) = 0$ و به ازای هر $x \in (0, 1)$

$$0 \leq f'(x) \leq \frac{1}{x} f(x)$$

(۱) f تابع ثابت صفر است.

(۲) همواره $f(x) \leq e^x$ ولی f لزوماً تابع ثابت صفر نیست.

(۳) f تابعی صعودی است ولی لزوماً تابع ثابت صفر نیست.

(۴) f بر یک همسایگی صفر برابر صفر است ولی لزوماً تابع ثابت صفر نیست.

۵۸- فرض کنید تابع $f: (0, \infty) \rightarrow (0, \infty)$ پیوسته باشد و برای هر عدد طبیعی n مجموعه $\left\{x: f(x) > \frac{1}{n}\right\}$ کراندار

باشد. کدام گزینه درست است؟

(۱) هر دو حد $\lim_{x \rightarrow \infty} f(x)$ و $\lim_{x \rightarrow 0^+} f(x)$ موجود هستند.

(۲) $\lim_{x \rightarrow 0^+} f(x)$ موجود است اما ممکن است $\lim_{x \rightarrow \infty} f(x)$ موجود نباشد.

(۳) $\lim_{x \rightarrow \infty} f(x)$ موجود است اما ممکن است $\lim_{x \rightarrow 0^+} f(x)$ موجود نباشد.

(۴) ممکن است هیچ یک از دو حد $\lim_{x \rightarrow 0^+} f(x)$ و $\lim_{x \rightarrow \infty} f(x)$ موجود نباشد.

۵۹- فرض کنید تابع $f: \mathbb{R} \rightarrow \mathbb{R}$ دارای خاصیت زیر باشد:

به ازای هر $\varepsilon > 0$ تابعی یکنواخت پیوسته بر \mathbb{R} مانند g وجود دارد به طوری که برای هر $t \in \mathbb{R}$ $|f(t) - g(t)| < \varepsilon$.

کدام گزینه درست است؟

(۱) f ممکن است در هیچ نقطه‌ای پیوسته نباشد.

(۲) f یکنواخت پیوسته است.

(۳) f تعداد نامتناهی نقطه پیوستگی دارد ولی الزاماً بر \mathbb{R} پیوسته نیست.

(۴) f پیوسته است ولی الزاماً یکنواخت پیوسته نیست.

۶۰- فرض کنید $f: [0, 1] \rightarrow [0, 1]$ تابعی پیوسته غیر ثابت باشد و $E = \{x \in [0, 1]: f(x) = x\}$. کدام گزینه نادرست است؟

(۱) $E \neq \emptyset$

(۲) E بسته است.

(۳) اگر E نامتناهی باشد لزوماً نا شمارا است.

(۴) اگر $f \circ f = f$ آن گاه E یک بازه است.

۶۱- در یک دستگاه ممیز شناور برای نمایش اعداد حقیقی در مبنای ۲ با ۳ رقم مانتیس و روش گرد کردن فاصله بین عدد ۸ و نزدیک ترین عدد قابل نمایش بزرگتر از ۸ چقدر است؟

(۱) ۱

(۲) ۲

(۳) $\frac{1}{2}$

(۴) $\frac{1}{8}$

۶۲- فرض کنید A ، $m \times n$ و b ، $m \times 1$ ، هستند. مقدار $\min_x \|A^T Ax - A^T b\|_2$
 (۱) برابر است با صفر
 (۲) ناصفر است اگر $n < \text{رتبه}(A)$
 (۳) صفر است اگر و تنها اگر رتبه $n = (A)$
 (۴) برابر است با صفر اگر x^* جواب مربوط یکتا باشد.

۶۳- ضرایب چند جمله‌ای درون‌یاب برای نقاط متمایز (x_i, y_i) ، $i = 1, \dots, n$ ، با یک چند جمله‌ای از درجه کوچک‌تر از n یا مساوی با $n-1$ با استفاده از توابع پایه $\prod_{k=1}^{j-1} (x - x_k)$ ، به ازای $1 \leq j \leq n$ ، از حل یک دستگاه بدست می‌آیند.

(۱) بالا مثلثی

(۲) با تعداد نامتناهی جواب

(۳) پایین مثلثی به صورت یکتا

(۴) با قطرهای ماتریس ضرایب برابر با یک

۶۴- فرض کنید نقاط متمایز $(x_i, f(x_i))$ ، $i = 0, 1, \dots, n$ ، با یک چند جمله‌ای از درجه n درون‌یابی شوند. در این صورت،

با تعریف $L_n(x) = \prod_{j=0}^n (x - x_j)$ ، کسر تفاضلی $f[x_0, x_1, \dots, x_n]$ برابر است با

(۱) $\sum_{i=0}^n \frac{f(x_i)}{L'_n(x_i)}$

(۲) $\sum_{i=0}^n f(x_i) \frac{L_n(x_i)}{L'_n(x_i)}$

(۳) $\sum_{i=0}^n f(x_i) L'_n(x_i)$

(۴) $\sum_{i=0}^n f(x_i) \frac{L'_n(x_i)}{L_n(x_i)}$

۶۵- تخمین انتگرال برای $I = \int_a^b f(x)dx$ را با یک روش نیوتن - کوته وقتی در نظر بگیرید که در آن،

$$I = A_1 + C_m f^{(d)}(\eta_1) h^d = A_2 + C_m [f^{(d)}(\eta_2) h^d] \frac{1}{2^d}$$

که $\eta_1, \eta_2 \in [a, b]$ و $h = \frac{b-a}{m-1}$ درجه چند جمله‌ای

به کار رفته برابر با $d-1, A_1, A_2$ به ترتیب تخمین نیوتن - کوته m نقطه‌ای روی $[a, b]$ و تخمین نیوتن - کوته m نقطه‌ای روی دو زیر بازه مساوی پس از تقسیم $[a, b]$ هستند. در این صورت، تخمین خطای انتگرال برای A_2 ، یعنی $|I - A_2|$ تقریباً برابر است با

$$\frac{|A_2 - A_1|}{2^d + 1} \quad (۱)$$

$$\frac{|A_2 - A_1|}{2^{d+1}} \quad (۲)$$

$$\frac{|A_2 - A_1|}{2^d} \quad (۳)$$

$$\frac{|A_2 - A_1|}{2^d - 1} \quad (۴)$$

۶۶- واریانس معیار مناسبی برای اندازه‌گیری پراکندگی داده‌های با مقیاس لا اقل است و اگر تمام داده‌ها باشند آن گاه واریانس آن‌ها خواهد بود.

(۱) فاصله‌ای - برابر - صفر
(۲) ترتیبی - هم‌فاصله - بزرگتر از یک

(۳) فاصله‌ای - هم‌فاصله - بزرگتر از یک
(۴) ترتیبی - برابر - صفر

۶۷- میانگین ۲۰ داده عددی برابر با ۱۲ شده است. اگر ۵ داده عددی جدید با میانگین ۱۵ به این داده‌ها افزوده شوند، مقدار میانگین ۲۵ داده ادغام شده چقدر است؟

$$۱۱ \quad (۱)$$

$$۱۱/۴ \quad (۲)$$

$$۱۱/۵ \quad (۳)$$

$$۱۱/۶ \quad (۴)$$

۶۸- فرض کنید پیشامدهای B_1, \dots, B_n توأماً مجزا باشند و $B = \bigcup_{j=1}^n B_j$. اگر برای هر $j = 1, \dots, n$ داشته باشیم $P(A|B_j) = p$ و $P(B_j) > 0$ ، آن گاه گزینه صحیح در مورد $P(A|B)$ کدام است؟

$$P(A|B) = \frac{p}{n} \quad (۱)$$

$$P(A|B) = p \quad (۲)$$

$$P(A|B) > p \quad (۳)$$

$$P(A|B) = \min(1, np) \quad (۴)$$

۶۹- فرض کنید A, B, C سه پیشامد مستقل و $A \subset B \subset C$ در این صورت:

$$P(C) = ۱, P(A) = ۰ \quad (۱)$$

$$P(C) = ۰ \text{ یا } P(A) = ۱ \quad (۲)$$

$$P(C) = ۱ \text{ یا } P(A) = ۰ \quad (۳)$$

$$P(C) = ۱, P(A) = ۱ \quad (۴)$$

۷۰- یک کمیته شامل $6n$ نفر که نصف آن مرد و نصف دیگر زن است. یک مرد به تصادف انتخاب می‌شود. او از بین $6n-1$ نفر باقی‌مانده n نفر را برای تشکیل کمیته‌ای ویژه انتخاب می‌کند. اگر n فرد انتخابی جنسیت یکسان داشته باشند، احتمال اینکه همگی زن باشند چقدر است؟

$$\frac{3}{5} \quad (۱)$$

$$\frac{3n}{6n-1} \quad (۲)$$

$$2 \quad (۳)$$

$$\frac{\binom{3n}{n}}{\binom{6n-1}{n}} \quad (۴)$$

آنالیز ریاضی:

۷۱- فرض کنید X و Y دو فضای متریک و $f: X \rightarrow Y$ یک تابع باشد. کدام گزینه معادل با پیوستگی تابع f نیست؟

(۱) f بر هر زیرمجموعه فشرده X پیوسته است.

(۲) f بر هر زیرمجموعه همبند X پیوسته است.

(۳) برای هر زیرمجموعه A از X ، $f(\overline{A}) \subseteq \overline{f(A)}$.

(۴) برای هر زیرمجموعه B از Y ، $f^{-1}(\text{int}(B)) \subseteq \text{int}(f^{-1}(B))$.

۷۲- فرض کنید X فضای متریک و Y زیرفضای X باشد. کدام گزینه درست است؟

(۱) هر مجموعه فشرده در فضای Y در فضای X نیز فشرده است.

(۲) هر مجموعه باز در فضای Y در فضای X نیز باز است.

(۳) هر مجموعه بسته در فضای Y در فضای X نیز بسته است.

(۴) هر مجموعه بسته و کراندار در فضای Y در فضای X فشرده است.

۷۳- دنباله توابع $f_n(x) = e^{-nx}(x + \frac{1}{n})$ بر $[0, 1]$ تعریف شده است. کدام گزینه نادرست است؟

(۱) دنباله $\{f'_n\}$ یکنواخت همگرا به صفر است.

(۲) دنباله $\{f_n\}$ یکنواخت کراندار و یکنواخت همگرا به صفر است.

(۳) دنباله $\{f'_n\}$ یکنواخت کراندار است ولی یکنواخت همگرا به صفر نیست.

(۴) دنباله $\{f'_n\}$ یکنواخت کراندار و در هر نقطه به صفر همگرا است.

۷۴- فرض کنید تابع $f: [0, 1] \rightarrow \mathbb{R}$ پیوسته و غیر ثابت است. کدام گزینه نادرست است؟

(۱) $\lim_{n \rightarrow \infty} \int_0^1 x^n f(x) dx = 0$

(۲) $\lim_{n \rightarrow \infty} n \int_0^1 x^n (f(x) - f(1)) dx \neq 0$

(۳) $\lim_{n \rightarrow \infty} n \int_0^1 x^n f(x) dx = f(1)$

(۴) برای هر $0 < a < 1$ ، $\lim_{n \rightarrow \infty} n \int_0^a x^n (f(x) - f(1)) dx = 0$

۷۵- فرض کنید $\{f_n\}$ دنباله‌ای از توابع نامنفی و پیوسته بر \mathbb{R} باشد که به ازای هر $x \in \mathbb{R}$ ، $\sum_{n=1}^{\infty} f_n(x) = 1$. کدام گزینه درست است؟

- (۱) بر هیچ زیرمجموعه نامتناهی \mathbb{R} نمی‌توان همگرایی یکنواخت $\sum f_n$ را نتیجه گرفت.
 - (۲) همگرایی $\sum f_n$ بر هر زیرمجموعه بسته \mathbb{R} ، یکنواخت است و شرط بسته بودن ضروری است.
 - (۳) همگرایی $\sum f_n$ بر هر بازه کراندار، یکنواخت است و شرط کراندار بازه ضروری است.
 - (۴) همگرایی $\sum f_n$ بر هر زیرمجموعه حداکثر شمارای \mathbb{R} یکنواخت است و شرط شمارا بودن ضروری است.
- ۷۶- فرض کنید تابع $f: [0, 1] \rightarrow \mathbb{R}$ پیوسته باشد و دنباله توابع $\{f_n\}$ بر $[0, 1]$ با ضابطه زیر تعریف شود:

$$f_n(x) = \frac{f(x) \sin x^n}{1 + n^\alpha x^m}$$

که در آن $0 < \alpha$ و $m \in \mathbb{N}$. در این صورت دنباله $\{f_n\}$

- (۱) بر $[0, 1]$ یکنواخت همگرا است.
- (۲) در هر نقطه $[0, 1]$ همگراست ولی همگرایی آن یکنواخت نیست.
- (۳) در برخی نقاط بازه $[0, 1]$ همگراست و در برخی نقاط همگرا نیست.
- (۴) در هیچ نقطه‌ای از $[0, 1]$ همگرا نیست.

۷۷- اگر K زیرمجموعه‌ای شمارا در صفحه \mathbb{R}^2 باشد و \mathbb{R} را با $\mathbb{R} \times \{0\}$ یکی بگیریم، کدام گزینه درست است؟

- (۱) $\mathbb{R} \cup K$ مجموعه‌ای همبند است.
- (۲) $\mathbb{R} \setminus K$ مجموعه‌ای همبند است.
- (۳) $\mathbb{R} \cap K$ مجموعه‌ای همبند است.
- (۴) $(\mathbb{R}^2 \setminus K) \cup \mathbb{R}$ مجموعه‌ای همبند است.

۷۸- فرض کنید X یک فضای متریک و $f_n: X \rightarrow X$ دنباله‌ای هم‌پیوسته از توابع بر X باشد که نقطه‌وار به تابع

$f: X \rightarrow X$ همگرا است. کدام شرط برای پیوستگی یکنواخت f ضروری است؟

- (۱) دنباله $\{f_n\}$ به f همگرایی یکنواخت بر X باشد.
- (۲) X فشرده باشد.
- (۳) X کامل باشد.
- (۴) هیچ شرطی.

۷۹- مقدار $\lim_{n \rightarrow \infty} \int_0^{\pi} \frac{n + \sin(nx)}{n + \sin^2(nx)} dx$ کدام است؟

(۱) صفر

(۲) $+\infty$

(۳) $\frac{\pi}{3}$

(۴) موجود نیست.

۸۰- فرض کنید (X, d) یک فضای متریک است که در آن هر مجموعه تک‌عضوی باز است. کدام گزینه درست است؟

(۱) متر d مضربی از متر گسسته است.

(۲) (X, d) یک فضای متریک کامل (Complete) است.

(۳) هر زیرمجموعه ناتهی و همبند از X ، تک‌عضوی است.

(۴) هر زیرمجموعه ناتهی و فشرده از X ، تک‌عضوی است.

۸۱- فرض کنید A زیرمجموعه‌ای ناتهی از فضای متریک (X, d) است. کدام گزینه نادرست است؟

(۱) اگر هر نقطه از A ، حد یک دنباله از نقاط متمایز A باشد، آنگاه A نقطه تنها ندارد.

(۲) اگر هر نقطه از X ، حد یک دنباله از نقاط A باشد، آنگاه A در X چگال است.

(۳) اگر حد هر دنباله از نقاط A ، عضو A باشد، آنگاه A بسته است.

(۴) اگر هر دنباله کراندار از نقاط A ، دارای زیردنباله‌ای همگرا در A باشد، آنگاه A فشرده است.

۸۲- کدام گزینه درباره سری‌های $A = \sum_{n=1}^{\infty} (\sin^{n+1} x - \sin^n x) \sin(nx)$ بر $\left[\frac{\pi}{4}, \frac{3\pi}{4}\right]$ و $B = \sum_{n=1}^{\infty} \frac{x^n}{n^{x+1}}$ درست است؟

(۱) هر دو همگرایی یکنواخت هستند.

(۲) هیچ یک همگرایی یکنواخت نیستند.

(۳) B همگرایی یکنواخت است ولی A همگرایی یکنواخت نیست.

(۴) A همگرایی یکنواخت است ولی B همگرایی یکنواخت نیست.

۸۳- اگر $f(x) = \sum_{n=1}^{\infty} nx e^{-nx^2}$ آنگاه $\int_{-1}^1 f(x) dx$ کدام است؟

(۱) صفر

(۲) $e - \frac{1}{e}$

(۳) $\frac{1}{e} - e$

(۴) موجود نیست.

۸۴- کدام گزینه درباره دنباله‌های توابع $A = \left\{ \frac{1}{\cosh(x+n)} \right\}_{n=1}^{\infty}$ و $B = \left\{ \frac{1}{1 + \sinh^2(1-n^2 x^2)} \right\}_{n=1}^{\infty}$ بر \mathbb{R} درست است؟

است؟

(۱) هر دو همگرایی یکنواخت هستند.

(۲) هیچ کدام همگرایی یکنواخت نیستند.

(۳) A همگرایی یکنواخت است ولی B همگرایی یکنواخت نیست.

(۴) B همگرایی یکنواخت است ولی A همگرایی یکنواخت نیست.

۸۵- فرض کنید $\{x_k\}_{k=1}^{\infty}$ دنباله‌ای با جملات متمایز در \mathbb{R} باشد و به ازای هر $n \in \mathbb{N}$ ، $A_n = \{x_k : k \geq n\}$ و

$A = \bigcap_{n=1}^{\infty} A_n$ که مجموعه نقاط حدی A_n است. کدام گزینه درست است؟

(۱) اگر $A = \{a\}$ ، آنگاه $\lim_{n \rightarrow \infty} x_n = a$.

(۲) مجموعه A حداکثر شمارا است.

(۳) اگر دنباله $\{x_k\}$ کراندار باشد، آنگاه A ناتهی است و شرط کراندار ضروری است.

(۴) اگر A ناتهی و کراندار باشد، آنگاه $\lim x_n = \inf A$ و $\overline{\lim} x_n = \sup A$.

۸۶- فرض کنید A مجموعه‌ای در فضای متریک X باشد. با توجه به نمادهای $\text{int } A = \text{درون } A$ ، $A^c = X \setminus A$ ،

$\partial A = \text{مرز } A$ و $\bar{A} = \text{بستار } A$ ، کدام گزینه نادرست است؟

(۱) $(\text{int } A)^c = \bar{A}^c$.

(۲) $\text{int } \partial A = \emptyset$.

(۳) $\text{int } (A^c) = (\bar{A})^c$.

(۴) $\text{int } \partial \bar{A} = \emptyset$.

۸۷- فضاهای متریک X و Y و Z ، تابع $f: X \rightarrow Y$ و تابع پیوسته و یک به یک $g: Y \rightarrow Z$ را در نظر بگیرید.

به گونه‌ای که تابع $g \circ f$ پیوسته یکنواخت باشد. از کدام شرط نتیجه می‌گیریم تابع f پیوسته یکنواخت است؟

(۱) Y فشرده باشد.

(۲) f پیوسته باشد.

(۳) g پیوسته یکنواخت باشد.

(۴) X و Z هر دو فشرده باشند.

۸۸- فرض کنید $f_1(x) = 1 + \sin x$ و به ازای هر $n \in \mathbb{N}$ ، $f_{n+1}(x) = \sqrt{2 + f_n(x)}$ ، کدام گزینه درباره دنباله $\{f_n\}$ درست است؟

(۱) بر \mathbb{R} همگرایی نقطه‌وار نیست.

(۲) بر \mathbb{R} یکنواخت همگرا است.

(۳) بر بازه‌های کراندار \mathbb{R} یکنواخت همگرا است ولی بر \mathbb{R} یکنواخت همگرا نیست.

(۴) بر \mathbb{R} همگرایی نقطه‌وار است ولی بر هیچ بازه با طول مثبت در \mathbb{R} یکنواخت همگرا نیست.

۸۹- فرض کنید $\sum_{n=0}^{\infty} C_n x^n$ سری مک لوران تابع $f: \mathbb{R} \rightarrow \mathbb{R}$ و $r \in \mathbb{R}$ شعاع همگرایی آن باشد. شرط لازم و کافی

برای همگرایی سری $\sum_{n=0}^{\infty} C_n$ کدام است؟

(۱) $r > 1$

(۲) مجموع جزئی سری $\sum_{n=1}^{\infty} C_n$ کراندار باشد و $r \geq 1$

(۳) تابع f در نقطه $a = 1$ از چپ پیوسته باشد و $r \geq 1$

(۴) سری توانی $\sum_{n=0}^{\infty} C_n x^n$ بر $[0, 1]$ یکنواخت همگرا باشد.

۹۰- فرض کنید X یک مجموعه و d_1 و d_2 دو متر روی X باشند به طوری که برای هر $x, y \in X$ ، $d_1(x, y) \leq d_2(x, y)$.

در این صورت کدام گزینه درباره $A \subseteq X$ درست است؟

(۱) اگر A در (X, d_2) بسته باشد، آنگاه A در (X, d_1) نیز بسته است.

(۲) اگر A در (X, d_1) فشرده باشد، آنگاه A در (X, d_2) نیز فشرده است.

(۳) هر نقطه حدى A در (X, d_2) یک نقطه حدى A در (X, d_1) است.

(۴) هر نقطه درونی A در (X, d_2) یک نقطه درونی A در (X, d_1) است.

مبانی جبر و مبانی ترکیبیات

۹۱- روی مجموعه $\mathbb{R} - \{0\}$ ، عمل دوتایی $*$ را به صورت زیر تعریف می کنیم:

$$\forall x, y \in \mathbb{R} - \{0\}; \quad x * y = \begin{cases} 6xy & ; x > 0 \\ \frac{x}{6y} & ; x < 0 \end{cases}$$

در این صورت، وارون عضو 10 نسبت به عمل $*$ برابر با کدام گزینه است؟

(۱) $-\frac{1}{60}$

(۲) $\frac{1}{360}$

(۳) $\frac{1}{10}$

(۴) $\frac{1}{60}$

۹۲- کدام گزینه در مورد ایدهال های حلقه \mathbb{Z} صحیح است؟

(۱) $\langle 5 \rangle + \langle 12 \rangle = \langle 60 \rangle$

(۲) $\langle 5 \rangle \cap \langle 12 \rangle = \{0\}$

(۳) $\langle 8 \rangle + \langle 12 \rangle = \langle 24 \rangle$

(۴) $\langle 8 \rangle \cap \langle 12 \rangle = \langle 24 \rangle$

۹۳- اگر $f: \mathbb{Z}_{20} \rightarrow \mathbb{Z}_{20}$ یک یکرختی گروهی باشد، آنگاه $f(3)$ با کدام گزینه نمی تواند برابر باشد؟

۵ (۱)

۷ (۲)

۹ (۳)

۱۱ (۴)

۹۴- فرض کنید R و S دو حلقه یکدار و $f: R \rightarrow S$ یک همریختی حلقه ای ناصفر باشد. در این صورت، کدام گزینه صحیح است؟

(۱) اگر S یک حوزه صحیح باشد، آنگاه R نیز یک حوزه صحیح است.

(۲) اگر R یک حوزه صحیح باشد، آنگاه S نیز یک حوزه صحیح است.

(۳) اگر S یک حوزه صحیح باشد، آنگاه $f(1_R) = 1_S$.

(۴) اگر R یک حوزه صحیح باشد، آنگاه $f(1_R) = 1_S$.

۹۵- کدام گزینه صحیح است؟

(۱) اگر R و S دو حلقه از مشخصه های به ترتیب m و n باشند، آنگاه مشخصه حلقه $R \times S$ برابر با mn است.

(۲) مشخصه یک زیرحلقه، با مشخصه خود حلقه برابر است.

(۳) مشخصه هر حلقه نامتناهی، صفر است.

(۴) هیچ کدام

۹۶- فرض کنید R حلقه ای یکدار و I ایده‌آلی ناصفر از آن باشد. در این صورت کدام گزینه صحیح است؟ $U(R)$ مجموعه اعضای وارون پذیر R است.

(۱) اگر $U(R) \subseteq R - I$ ، آنگاه I یک ایده‌آل ماکسیمال است.

(۲) اگر I یک ایده‌آل ماکسیمال باشد، آنگاه $R - I \subseteq U(R)$.

(۳) اگر $R - I \subseteq U(R)$ ، آنگاه I یک ایده‌آل ماکسیمال است.

(۴) اگر I یک ایده‌آل ماکسیمال باشد، آنگاه $R - I \not\subseteq U(R)$.

۹۷- فرض کنید G زیرگروهی نابدیهی از S_n باشد، به طوری که هر عضو نابدیهی G یک جایگشت فرد باشد. در این صورت $|G|$ برابر با کدام گزینه است؟

۱ (۱)

۲ (۲)

۳ (۳)

۴ (۴)

۹۸- اگر $f = (9 \ 6 \ 3 \ 5 \ 1 \ 4)(2 \ 3 \ 4 \ 5 \ 7 \ 8)$ و $g = (4 \ 6 \ 7 \ 3 \ 1)(1 \ 4 \ 2 \ 6 \ 5 \ 7 \ 8)$ و $h = (1 \ 2 \ 5 \ 2)(2 \ 3 \ 6 \ 7)$

اعضای از گروه متقارن S_8 باشند، آنگاه مرتبه عضو $g^{-2} h^{-2} f h^2 g^2$ کدام است؟

۴ (۱)

۶ (۲)

۱۲ (۳)

۲۴ (۴)

۹۹- فرض کنید G یک گروه از مرتبه ۱۰۰ باشد، به طوری که دارای یک زیرگروه مانند H از مرتبه ۲۵ است. اگر $a \in G$ عضوی از مرتبه ۵ باشد، آنگاه کدام گزینه درست است؟

(۱) $|\langle a \rangle H| = 50$

(۲) $a \in H$

(۳) $G \cong H \times \langle a^2 \rangle$

(۴) $\langle a \rangle H = G$

۱۰۰- فرض کنید $\mathbb{C}^* = \mathbb{C} - \{0\}$ گروه ضربی میدان اعداد مختلط باشد و $H \leq \mathbb{C}^*$ یک زیرگروه آن باشد. در این صورت کدام گزینه، یک شرط لازم و کافی برای متناهی بودن اندیس H در \mathbb{C}^* است؟

(۱) $H = \mathbb{C}^*$

(۲) $H = \{1\}$

(۳) $H = \{z \in \mathbb{C} : |z| = 1\}$

(۴) $H = \mathbb{R}^*$

۱۰۱- تعداد اعداد ۱۰ رقمی با ارقام ۱، ۲، ۳، ۴ به طوری که مجموع هر یک از آن‌ها زوج باشد، چند است؟

(۱) 2^{19}

(۲) کمتر از ۱- 2^{19}

(۳) $2^{19} - 1$ یا $2^{19} + 1$

(۴) بیشتر از $2^{19} + 1$

۱۰۲- کدام گزاره یا گزاره‌ها درست است؟

(الف) $\sum_{k=0}^{100} \binom{1401}{2k} = \sum_{k=0}^{100} \binom{1401}{2k+1}$

(ب) $\sum_{k=0}^{101} \binom{2022}{2k} = \sum_{k=0}^{101} \binom{2022}{2k+1}$

(۲) (ب)

(۴) هیچ کدام

(۱) (الف)

(۳) هر دو

۱۰۳- یک میز دایره‌ای در حال چرخش داریم. به چند طریق می‌توان ارقام ۰ الی ۹ را دور آن چید؛ به طوری که مجموع هر دو رقم مجاور، فرد باشد؟ (حالاتی که قرینه آینه‌ای هم هستند، حالات متمایزی محسوب می‌شوند.)

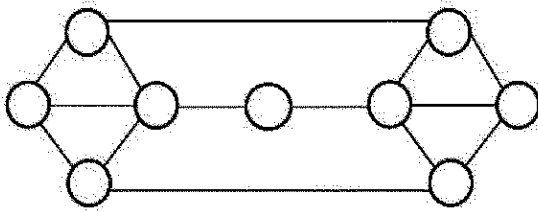
(۱) $(5!)^2$

(۲) $\frac{(5!)^2}{5}$

(۳) $2(5!)^2$

(۴) $\frac{(5!)^2}{10}$

۱۰۴- به چند طریق می توان رأس های گراف زیر را با ۳ رنگ قرمز، زرد و آبی رنگ کرد به طوری که هیچ دو رأس مجاور هم رنگ نباشند؟



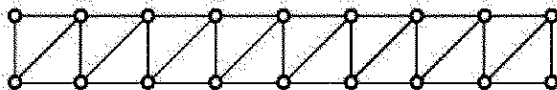
(۱) ۱۸

(۲) ۲۴

(۳) ۳۰

(۴) ۳۶

۱۰۵- منظور از یک تطابق کامل در یک گراف G ، زیرمجموعه ای مانند M از یال های G است به طوری که هر رأس به دقیقاً یک یال از M متصل باشد. گراف زیر دارای چند تطابق کامل است؟



(۱) ۳۲

(۲) ۳۴

(۳) ۴۵

(۴) ۵۵

۱۰۶- فرض کنیم $f(x)$ تابع مولد نمایی دنباله $1, \frac{1}{2}, \frac{1}{3}, \frac{1}{4}, \frac{1}{5}, \dots$ باشد. در این صورت $f(2)$ در کدام بازه قرار دارد؟

(۱) $(0, 2)$

(۲) $[2, 4)$

(۳) $[4, 6)$

(۴) $[6, +\infty)$

۱۰۷- معادله $\begin{cases} x_1 + x_2 + x_3 = 28 \\ 0 \leq x_i \leq 19 \end{cases} \quad 1 \leq i \leq 3$ چند جواب صحیح دارد؟

(۱) ۱۵۳

(۲) ۲۱۰

(۳) ۲۶۸

(۴) ۵۹۰

۱۰۸- ضریب x^{12} در تابع $\frac{1}{(1-4x)^3}$ چقدر است؟

(۱) 91×4^{12}

(۲) 455×4^{12}

(۳) -91×4^{12}

(۴) -455×4^{12}

۱۰۹- به چند روش می توان هشت کتاب مختلف را در شش جعبه کاملاً مشابه بسته بندی کرد به طوری که در هر جعبه حداقل یک کتاب باشد؟

(۱) ۱۲۷

(۲) ۳۰۱

(۳) $21 \times 8!$

(۴) ۲۶۶

۱۱۰- فرض کنیم G یک گراف ساده باشد که رأس‌های آن هر یک از خانه‌های صفحه شطرنجی 8×8 است و دو خانه (دو رأس) با یکدیگر با یک یال متصل می‌شوند اگر و فقط اگر از یکی بتوان با یک حرکت مهره اسب به دیگری رفت (اسب دو خانه افقی (عمودی) و سپس یک خانه عمودی (افقی) حرکت می‌کند). تعداد یال‌های گراف G یعنی $|E(G)|$ در کدام بازه قرار دارد؟

(۱) $[1, 50)$

(۲) $[50, 100)$

(۳) $[100, 160)$

(۴) $[160, \infty)$

جبر خطی عددی، بهینه‌سازی خطی و نظریه مقدماتی معادلات دیفرانسیل:

۱۱۱- فرض کنید $E = I - \alpha u v^T$ یک ماتریس مقدماتی است که در آن، u و v بردارهای n بعدی و α یک اسکالر داده شده است. می‌توان $\|Ex\|_2$ به ازای $x \in \mathbb{R}^{n \times 1}$ را با عملیات اصلی از مرتبه دست کم محاسبه کرد.

(۱) n

(۲) n^2

(۳) $n\sqrt{n}$

(۴) \sqrt{n}

۱۱۲- اگر \bar{x} جواب محاسبه شده برای دستگاه $AX=b$ در یک دستگاه ممیز شناور با ۱۶ رقم دهدهی برای نمایش اعداد حقیقی، عدد حالت A برابر با 10^5 و درایه‌های A و b با ۸ رقم دهدهی دقیق باشند، آنگاه تعداد ارقام قابل اعتماد در \bar{x} به عنوان جواب دستگاه تقریباً برابر است با

(۱) ۱۶

(۲) ۸

(۳) ۱۱

(۴) ۳

۱۱۳- تجزیه چولسکی برای ماتریس معین مثبت $n \times n$ با روش حذف گاوسی نیازمند $O(n^2)$ عملیات است.

(۱) نیازمند $O(n^2)$ عملیات است.

(۲) برای پایدار بودن نیازمند محورگزینی است.

(۳) پایدار است، زیرا موجب رشد زیاد اعداد تولید شده میانی نمی‌شود.

(۴) می‌تواند ناپایدار باشد و اعداد میانی تولید شده رشد چشمگیری داشته باشند.

۱۱۴- ماتریس‌های A و $D = U^T A U$ را در نظر بگیرید. اگر U یک ماتریس متعامد نرمال باشد و x و λ به ترتیب بردار و مقدار ویژه ماتریس D باشند، آنگاه بردار ویژه و مقدار ویژه A به ترتیب هستند.

(۱) Ux و $\frac{1}{\lambda}$

(۲) Ux و λ

(۳) x و λ

(۴) $U^T x$ و $\frac{1}{\lambda}$

۱۱۵- فرض کنید A یک ماتریس ناتکین $n \times n$ است و داریم $A = USV^T$ که در آن، U و V ماتریس‌های متعامد نرمال و S قطری با درایه‌های قطری $S_{ii} = \sqrt{i}$ ، به ازای $i = 1, \dots, n$ هستند. در این صورت، عدد حالت A در نرم اقلیدسی برابر است با

(۱) n^2

(۲) \sqrt{n}

(۳) $n\sqrt{n}$

(۴) n

۱۱۶- تکرار k ام روش توانی برای محاسبه یک بردار ویژه ماتریس A را به صورت $x^{(k)} = Ax^{(k-1)}$ ، $k = 1, 2, \dots$ در نظر بگیرید. اگر داشته باشیم $\lim_{k \rightarrow \infty} \frac{x^{(k+1)T} x^{(k)}}{x^{(k)T} x^{(k)}} = 0$ ، آنگاه A ماتریسی است.

(۲) معین مثبت

(۴) قطری

(۱) ناتکین

(۳) متقارن

۱۱۷- فرض کنید A یک ماتریس متقارن حقیقی $n \times n$ است. در این صورت، تجزیه مقدار ناتکین A به صورت USV^T با ماتریس‌های متعامد نرمال U و V وجود دارد و درایه قطری S_{ii} ، به ازای $i = 1, \dots, n$ برابر است با که λ_i مقدار ویژه ماتریس A است.

(۱) λ_i

(۲) $\sqrt{|\lambda_i|}$

(۳) λ_i^2

(۴) $|\lambda_i|$

۱۱۸- در یک مسئله برنامه ریزی x_j را مقدار خرید کالای j ام در نظر بگیرید. اگر قرار باشد که از این کالا خریداری شود، آنگاه میزان خرید باید دست کم t واحد و دست بیش u واحد باشد. قیدهایی که این ویژگی را دارند، کدام است؟

(۱) $t \leq x_j \leq u$

(۲) $y \in \{0, 1\}, ty \leq x_j \leq uy$

(۳) $y \in \{0, 1\}, ty \leq x_j \leq u$

(۴) $y \in \{0, 1\}, t \leq x_j \leq uy$

۱۱۹- برای مسئله (P) به صورت

$$\min z = x_1 + x_2 - x_3$$

$$\text{s.t.} \quad -x_1 - x_2 = -1 \quad (P)$$

$$x_1, x_2, x_3 \geq 0$$

و مسئله (D)، دوگان (P)، داریم:

(۱) (D) ناشدنی هستند.

(۲) (P) بی کران و (D) ناشدنی هستند.

(۳) (P) و (D) جواب بهینه دارند.

(۴) (P) و (D) بی کران هستند.

۱۲۰- مسئله اولیه (P) به صورت

$$\begin{aligned} \min z &= x_1 - x_2 \\ \text{s.t.} \quad x_1 - x_2 &= 1 \quad (P) \\ x_1 + x_2 &= 0 \\ x_1, x_2 &\geq 0 \end{aligned}$$

را در نظر بگیرید و دوگان آن را (D) بنامید. در این صورت،

(۱) (P) و (D) جواب‌های بهینه دارند.

(۲) (P) و (D) ناشدنی هستند.

(۳) (P) و (D) بی‌کران هستند.

(۴) (P) ناشدنی و (D) بی‌کران است.

۱۲۱- مسئله (P) به صورت

$$\begin{aligned} \min z &= C^T x \\ \text{s.t.} \quad Ax &\leq b \quad (P) \\ x &\geq 0 \end{aligned}$$

را با $b \geq 0$ و $C \leq 0$ در نظر بگیرید. در این صورت،

(۱) (D) بی‌کران نیست.

(۲) (D) می‌تواند بی‌کران باشد.

(۳) (P) بی‌کران است.

(۴) (P) و (D) هر دو جواب بهینه دارند.

۱۲۲- فرض کنید $b \geq 0$. اگر دستگاه $Ax \leq b$ ، $x \geq 0$ ، $C^T x < 0$ جواب نداشته باشد، آن گاه دستگاه جواب دارد.

$$V \leq 0, A^T V \geq C \quad (۱)$$

$$V \geq 0, A^T V \geq C \quad (۲)$$

$$V \geq 0, A^T V + C \geq 0 \quad (۳)$$

$$V \leq 0, A^T V + C \geq 0 \quad (۴)$$

۱۲۳- مسئله برنامه‌ریزی خطی (P) را به صورت

$$\begin{aligned} \min z &= C^T x \\ \text{s.t.} \quad Ax &\leq b \quad (P) \\ 0 &\leq x \leq b \end{aligned}$$

با $b \geq 0$ در نظر بگیرید و دوگان آن را (D) بنامید. گزینه درست کدام است؟

(۱) (D) می‌تواند ناشدنی باشد.

(۲) (P) و (D) هر دو جواب‌های بهینه دارند.

(۳) (P) و (D) هر دو می‌توانند ناشدنی باشند.

(۴) (P) می‌تواند ناشدنی باشد ولی (D) همواره شدنی است.

۱۲۴- اگر دستگاه $Ax \leq 0, C^T x > 0$ جواب نداشته باشد، آن گاه دستگاه جواب دارد.

$$u \leq 0, A^T u = C \quad (۱)$$

$$A^T u \geq C \quad (۲)$$

$$u \geq 0, A^T u = C \quad (۳)$$

$$A^T u \leq C \quad (۴)$$

۱۲۵- مسئله (P) با $b \geq 0$ را به صورت

$$\min w = \sum_{i=1}^m y_i$$

$$\text{s.t.} \quad Ax + y = b \quad (P)$$

$$x \geq 0$$

$$y \geq 0$$

برای تعیین شدنی بودن دستگاه (Q) به صورت $Ax = b, x \geq 0$ ، در نظر بگیرید. اگر در یک جدول سیمپلکس، با جواب شدنی (x, y) برای (P) داشته باشیم $a_i x = b_i$ به ازای a_i سطر نام A، آن گاه

(۱) می تواند بی کران باشد.

(۲) دستگاه (Q) فضای شدنی و فضای شدنی مربوط به بی کران است.

(۳) y_i را می توان از مسئله (P) حذف کرد.

(۴) دستگاه (Q) فضای شدنی و فضای شدنی مربوط به بی کران است.

۱۲۶- فرض کنید تابع $f: \mathbb{R}^2 \rightarrow \mathbb{R}$ دارای مشتقات جزئی مرتبه اول پیوسته باشد و $t_0, y_0 \in \mathbb{R}$ دو معادله زیر را در نظر بگیرید:

$$B: \begin{cases} u' = \frac{\partial f}{\partial x}(t, x(t, y_0)) u \\ u(t_0) = 1 \end{cases}$$

$$A: \begin{cases} x'(t) = f(t, x) \\ x(t_0) = y \end{cases}$$

اگر $X(t, y)$ جواب معادله A و $U(t, y_0)$ جواب معادله B باشد، کدام گزینه درست است؟

$$(۱) \text{ تابع } X(t, y) \text{ نسبت به } t \text{ مشتق پذیر است و } U(t_0, y_0) = \frac{\partial X}{\partial t}(t_0, y_0)$$

$$(۲) \text{ تابع } X(t, y) \text{ نسبت به } y \text{ مشتق پذیر است و } U(t, y_0) = \frac{\partial X}{\partial y}(t, y_0)$$

(۳) تابع $X(t, y)$ لزوماً نسبت به y مشتق پذیر نیست ولی در صورتی که $X(t, y)$ نسبت به y مشتق پذیر باشد،

$$U(t, y_0) = \frac{\partial X}{\partial y}(t, y_0)$$

(۴) تابع $X(t, y)$ لزوماً نسبت به y مشتق پذیر نیست ولی در صورتی که $X(t, y)$ نسبت به t مشتق پذیر باشد،

$$U(t_0, y_0) = \frac{\partial X}{\partial t}(t_0, y_0)$$

۱۲۷- اگر تابع $A = \begin{bmatrix} 2 & 0 & 9 \\ -2 & 1 & -3 \\ 1 & 0 & 2 \end{bmatrix}$ و $\varphi(t)$ یک ماتریس اساسی معادله $X' = AX$ باشد، آنگاه $\det(\varphi(t))$ کدام

گزینه است؟

(۱) $e^{5t} - e^{-t}$

(۲) $e^{5t} + e^t$

(۳) $e^t + e^{-t}$

(۴) e^{5t}

۱۲۸- کدام گزینه درباره جواب‌های دستگاه معادلات زیر درست است؟

$$\begin{cases} x_1' = -2x_1 - x_3 \\ x_2' = -x_2 + x_3 \\ x_3' = x_1 - 2x_3 \\ x_4' = -x_2 - x_3 \end{cases}$$

(۱) به ازای هر جواب $X(t) = (x_1(t), \dots, x_4(t))$ داریم $\lim_{t \rightarrow +\infty} X(t) = 0$

(۲) دستگاه حداقل دارای یک جواب تناوبی غیربدیهی است.

(۳) دستگاه حداقل دارای یک جواب بی کران است.

(۴) همه جواب‌های دستگاه تناوبی هستند.

۱۲۹- فرض کنید $f(t)$ یک تابع کران دار روی $[0, \infty)$ بوده و $g(t)$ یک جواب غیربدیهی معادله $y'' + f(t)y = 0$

باشد که $\lim_{t \rightarrow \infty} g(t) = 0$. کدام گزینه درباره این معادله درست است؟

(۱) معادله یک جواب بی کران دارد.

(۲) همه جواب‌های معادله در بینهایت به صفر میل می‌کند.

(۳) همه جواب‌های معادله کران دار هستند ولی حد آنها در بینهایت لزوماً موجود نیست.

(۴) به ازای هر جواب از معادله حد آن در بینهایت موجود است ولی لزوماً صفر نیست.

۱۳۰- اگر $f: \mathbb{R} \rightarrow \mathbb{R}$ تابعی به طور پیوسته مشتق پذیر باشد و $x(t) = \tanh(t)$ جوابی از معادله $x'(t) = f(x(t))$

باشد، آنگاه مقدار تابع f در نقطه $x_0 = 1$ کدام است؟

(۱) e

(۲) -1

(۳) صفر

(۴) 1

احتمال (۱ و ۲) و فرایندهای تصادفی:۱

۱۳۱- اگر X یک متغیر تصادفی با تکیه گاه $S = \{2, 7\}$ و امید ریاضی $E[X] = 4$ باشد، واریانس این متغیر برابر کدام است؟

(۲) 6

(۱) 5

(۴) 10

(۳) 8

۱۳۲- تابع چگالی متغیر تصادفی X به صورت زیر است. امید ریاضی X کدام است؟

$$f(x) = \begin{cases} cx^2 & 1 \leq x \leq 2 \\ 0 & \text{در غیر این صورت} \end{cases}$$

(۱) $\frac{45}{28}$

(۲) $\frac{3}{7}$

(۳) $\frac{3}{4}$

(۴) $\frac{15}{28}$

۱۳۳- فرض کنید X دارای توزیع یکنواخت روی بازه $[-1, 1]$ است. قرار دهید $Y = \frac{1}{X^2}$. تابع چگالی احتمال Y کدام است؟

$$f(y) = \begin{cases} \frac{1}{2}y^{-\frac{3}{2}} & y \geq 1 \\ 0 & y < 1 \end{cases} \quad (۱)$$

$$f(y) = \begin{cases} \frac{3}{2}y^{-\frac{5}{2}} & y \geq 1 \\ 0 & y < 1 \end{cases} \quad (۲)$$

$$f(y) = \begin{cases} 2y^{-2} & y \geq 1 \\ 0 & y < 1 \end{cases} \quad (۳)$$

$$f(y) = \begin{cases} y^{-2} & y \geq 1 \\ 0 & y < 1 \end{cases} \quad (۴)$$

۱۳۴- اگر برای متغیر تصادفی X داشته باشیم $E(t^X) = (3-2t)^{-1}$ ، مقدار $P(X=1)$ کدام است؟

(۱) $\frac{1}{9}$

(۲) $\frac{2}{9}$

(۳) $\frac{1}{3}$

(۴) $\frac{2}{3}$

۱۳۵- فرض کنید طول عمر یک لپ تاپ متغیری تصادفی با توزیع نمایی و با میانگین ۱۰ سال است. اگر فردی این لپ تاپ را ۷ سال پیش خریده باشد احتمال اینکه لپ تاپ او ۵ سال دیگر نیز کار کند، چقدر است؟

(۱) $e^{-7/10}$

(۲) $e^{-1/2}$

(۳) e^{-1}

(۴) $e^{-5/10}$

۱۳۶- فرض کنید متغیر تصادفی پیوسته X دارای تابع چگالی احتمال زیر باشد.

$$f(x) = \begin{cases} x^2 & 0 < x < 1 \\ \frac{2}{3} & 1 \leq x < 2 \end{cases}$$

مقدار $P\{\sqrt{1/5}X > X\}$ چقدر است؟

(۱) $\frac{1}{3}$

(۲) $\frac{1}{2}$

(۳) $\frac{2}{3}$

(۴) $\frac{3}{4}$

۱۳۷- فرض کنید $F(x)$ تابع توزیع متغیر تصادفی پیوسته X باشد. مقدار

$$\frac{EF(X)}{\sqrt{\text{Var}(F(X))}}$$

کدام است؟

(۱) $\sqrt{3}$

(۲) $\frac{2}{\sqrt{3}}$

(۳) $\frac{\sqrt{3}}{2}$

(۴) $\frac{1}{\sqrt{3}}$

۱۳۸- در تابع چگالی زیر مقدار a کدام است؟

$$f(x, y) = ax^2 ; 0 < x < y < 1$$

(۱) ۴

(۲) ۵

(۳) ۱۰

(۴) ۲۰

۱۳۹- فرض کنید X و Y دو متغیر تصادفی مستقل باشند. فرض کنید

$$f_X(x) = \lambda_1 e^{-\lambda_1 x}, \quad x > 0, \quad f_Y(y) = \lambda_2 e^{-\lambda_2 y}, \quad y > 0$$

$P(X < Y)$ کدام است؟

$$\frac{1}{2} \quad (۱)$$

$$\frac{\lambda_2}{\lambda_1 + \lambda_2} \quad (۲)$$

$$\frac{\lambda_1}{\lambda_1 + \lambda_2} \quad (۳)$$

$$\frac{\lambda_1}{\lambda_2} \quad (۴)$$

۱۴۰- فرض کنید X و Y متغیرهای تصادفی با تابع چگالی احتمال توأم زیر باشند.

$$f_{X,Y}(x,y) = \begin{cases} e^{-(x+y)} & x > 0, y > 0 \\ 0 & \text{سایر نقاط} \end{cases}$$

تابع چگالی احتمال توأم $U = X - Y$ و $Z = X + Y$ کدام است؟

$$f(u,z) = \frac{1}{2} e^{-z}, \quad |u| > z \quad (۱)$$

$$f(u,z) = e^{-z}, \quad z > -u \quad (۲)$$

$$f(u,z) = e^{-z}, \quad -z < u < z \quad (۳)$$

$$f(u,z) = \frac{1}{2} e^{-z}, \quad -z < u < z \quad (۴)$$

۱۴۱- فرض کنید $\{X_n\}$ دنباله‌ای از متغیرهای تصادفی و هم توزیع با توزیع مشترک پواسون با میانگین یک باشد. اگر

$$Y_n = \frac{\sum_{i=1}^n X_i}{\sqrt{n}}$$

و دنباله $\{Y_n\}$ در توزیع به متغیر تصادفی Y همگرا باشد، آنگاه توزیع Y کدام است؟

(۱) نرمال استاندارد

(۲) پواسون با میانگین یک

$$\frac{1}{2} I(Y = -1, 1) \quad (۳)$$

(۴) یکنواخت $(-\sqrt{3}, \sqrt{3})$

۱۴۲- فرض کنید X و Y دو متغیر تصادفی باشند. تحت کدام یک از شرایط زیر $X+Y$ و $X-Y$ ناهمبسته هستند؟

(۱) X و Y ناهمبسته باشند.

$$\text{Var}(X) = \text{Var}(Y) \quad (۲)$$

(۳) X و Y دارای توزیع پیوسته باشند.

(۴) توزیع هر یک از متغیرهای تصادفی X و Y متقارن باشند.

۱۴۳- فرض کنید $X \sim U(0, 1)$ و $N | X \sim \text{Pois}(\tau)$ ، مقدار $E(X^N)$ کدام است؟

(۱) $1 - e^{-\tau}$

(۲) $\frac{e^{\tau} - 1}{\tau}$

(۳) $\frac{1 - e^{-\tau}}{\tau}$

(۴) $e^{\tau} - 1$

۱۴۴- فرض کنید W_1, W_2, W_3 متغیرهای تصادفی مستقل و هم توزیع با توزیع مشترک یکنواخت روی بازه $(0, 1)$ باشند. اگر $Y = W_1 - 3W_2 + 2W_3$ ، آنگاه یک کران بالا برای $P(|Y| \geq 2)$ چقدر است؟

(۱) $\frac{1}{2}$

(۲) $\frac{9}{24}$

(۳) $\frac{7}{24}$

(۴) $\frac{5}{24}$

۱۴۵- فرض کنید $\{X_n : n = 0, 1, \dots\}$ یک زنجیر مارکوف با فضای وضعیت (فضای حالت) S باشد. کدام گزینه درست است؟

(۱) اگر S متناهی باشد، دست کم یک وضعیت (حالت) بازگشتی است.

(۲) اگر S نامتناهی باشد، دست کم یک وضعیت (حالت) بازگشتی است.

(۳) اگر S متناهی باشد، همه‌ی وضعیت‌ها (حالت) بازگشتی هستند.

(۴) اگر S نامتناهی باشد، همه‌ی وضعیت‌ها (حالت) بازگشتی هستند.

۱۴۶- وضعیت j در یک زنجیر مارکوف را بازگشتی گویند، هرگاه:

(۱) $P_{j,j} > 0$

(۲) $\sum_{n=1}^{\infty} P_{j,j}^{(n)} < \infty$

(۳) $f_{j,j} < 1$

(۴) $\sum_{n=1}^{\infty} P_{j,j}^{(n)} = \infty$

۱۴۷- در زنجیر مارکوف قدم زدن تصادفی ساده متقارن، مقدار احتمال $P\{X_1 = 1 | X_0 = 1\}$ کدام است؟

(۱) صفر

(۲) $\frac{35}{128}$

(۳) $\frac{93}{128}$

(۴) ۱

۱۴۸- فرض کنید $\{N_1(t): t \geq 0\}$ و $\{N_2(t): t \geq 0\}$ فرایندهای پواسون همگن مستقلی با نرخ‌های λ_1 و λ_2 باشند. برای هر $t > 0$ مقدار احتمال $P\{N_1(t)=1 | N_1(t)+N_2(t)=2\}$ چقدر است؟

$$\frac{2(\lambda_1 + \lambda_2)}{(\lambda_1 + \lambda_2)^2} \quad (1)$$

$$\frac{2\lambda_2}{(\lambda_1 + \lambda_2)^2} \quad (2)$$

$$\frac{2\lambda_1\lambda_2}{(\lambda_1 + \lambda_2)^2} \quad (3)$$

$$\frac{2\lambda_1}{(\lambda_1 + \lambda_2)^2} \quad (4)$$

۱۴۹- در یک فرایند شاخه‌ای، فرض کنید X_n اندازه جمعیت در نسل n ام و μ میانگین افراد تولید شده توسط یک عضو در این جمعیت باشد و قرار دهید $X_0 = 1$. در این صورت $E(X_n)$ برابر است با:

$$\mu^n \quad (1)$$

$$\mu^{n-1}(\mu^n - 1) \quad (2)$$

$$\mu^{n-1} \quad (3)$$

$$\mu^n(\mu^{n-1} - 1) \quad (4)$$

۱۵۰- زنجیر مارکوف با ماتریس احتمال انتقال زیر را در نظر بگیرید:

$$\begin{matrix} 0 & 1 & 2 & 3 \\ \begin{bmatrix} \frac{1}{4} & \frac{1}{4} & 0 & \frac{1}{2} \\ \frac{1}{3} & 0 & 0 & \frac{2}{3} \\ 0 & 0 & \frac{1}{2} & \frac{1}{2} \\ 0 & 0 & \frac{1}{4} & \frac{3}{4} \end{bmatrix} \end{matrix}$$

دسته‌های هم‌ارزی کدام است؟

$$\{0, 1, 2\}, \{3\} \quad (1)$$

$$\{0, 2\}, \{1, 3\} \quad (2)$$

$$\{0, 1\}, \{2, 3\} \quad (3)$$

$$\{0, 1, 2, 3\} \quad (4)$$